

नामांक

Roll No.

--	--	--	--	--	--	--

No. of Questions – 30

S-08-Social Science

No. of Printed Pages – 6 + Map = 8

माध्यमिक परीक्षा, 2018

SECONDARY EXAMINATION, 2018

सामाजिक विज्ञान
SOCIAL SCIENCE

समय : $3\frac{1}{4}$ घण्टे

पूर्णांक : 80

परीक्षार्थियों के लिए सामान्य निर्देश :

GENERAL INSTRUCTIONS TO THE EXAMINEES :

(1) परीक्षार्थी सर्वप्रथम अपने प्रश्न-पत्र पर नामांक अनिवार्यतः लिखें ।

Candidates must write first his / her Roll No. on the question paper compulsorily.

(2) सभी प्रश्न करने अनिवार्य हैं ।

All the questions are compulsory.

(3) प्रत्येक प्रश्न का उत्तर दी गई उत्तर-पुस्तिका में ही लिखें ।

Write the answer to each question in the given answer-book only.

S-08-Social Science

[Turn over

- (4) जिन प्रश्नों में आन्तरिक खण्ड हैं, उन सभी के उत्तर एक साथ ही लिखें ।

For questions having more than one part, the answers to those parts are to be written together in continuity.

- (5) प्रश्न-पत्र के हिन्दी व अंग्रेजी रूपांतर में किसी प्रकार की त्रुटि/अंतर/विरोधाभास होने पर हिन्दी भाषा के प्रश्न को ही सही मानें ।

If there is any error / difference / contradiction in Hindi & English versions of the question paper, the question of Hindi version should be treated valid.

(6) प्रश्न संख्या	अंक प्रत्येक प्रश्न	उत्तर की शब्द सीमा
1 – 10	1	20 शब्द
11 – 19	2	40 शब्द
20 – 26	4	100 शब्द
27, 29	6	150 शब्द
28	7	150 शब्द

Q. No.	Marks per Question	Word limit of Answer
1 – 10	1	20 words
11 – 19	2	40 words
20 – 26	4	100 words
27, 29	6	150 words
28	7	150 words

- (7) प्रश्न संख्या 30 मानचित्र कार्य से संबंधित है और 5 अंक का है ।

Question No. 30 is related to map-work carrying 5 marks.

- (8) प्रश्न संख्या 24 व 27 से 29 तक में आंतरिक विकल्प हैं ।

There are internal choices in Question Nos. 24 and 27 to 29.

1. अशोक का रुम्मनदेई अभिलेख हमारे लिए क्यों महत्वपूर्ण है ?
Why Rummandei Inscription of Ashoka is important for us ? 1
2. जयपुर का जंतर-मंतर क्या है ?
What is the Jantar Mantar of Jaipur ? 1
3. आधुनिक युग में प्रतिनिधि लोकतंत्र के दो रूप बताइए ।
Name the two forms of the representative democracy in present-era. 1
4. इंटरनेट के कोई दो लाभ लिखिए ।
Write any two benefits of Internet. 1
5. राष्ट्रीय आय को परिभाषित कीजिए ।
Define the National Income. 1
6. भारत में वित्तीय वर्ष की अवधि बताइए ।
Mention the period of financial year in India. 1
7. प्राथमिक क्षेत्र में कौन सी गतिविधियाँ सम्मिलित की जाती हैं ?
Which activities are included in primary sector ? 1
8. सामान्य कीमत स्तर से क्या तात्पर्य है ?
What is the meaning of General Price Level ? 1
9. बेरोजगारी किसे कहते हैं ?
What is unemployment ? 1
10. भारत में गरीबी मापन का प्रथम प्रयास कब किया गया था ?
When was the first effort to measure poverty in India was made ? 1

11. एक जागरूक नागरिक के रूप में आप उच्च न्यायालय के लिये कौन-कौन सी स्वतंत्रताओं की अपेक्षा करते हैं ? किन्हीं दो का उल्लेख कीजिये ।

As a conscious citizen, what independences would you expect for the High Court ?
Describe any two.

1 + 1 = 2

12. टांका क्या है ? उस योजना का नाम लिखिए जिसके अन्तर्गत टांकों का निर्माण किया गया ।

What is 'TANKA' ? What is the name of scheme under which Tanka construction were done ?

1½ + ½ = 2

13. व्यावसायिक फसलें क्या हैं ? व्यावसायिक फसलों के कोई चार उदाहरण दें ।

What are Commercial Crops ? Write any four examples.

1 + ¼ × 4 = 2

14. धात्विक खनिज कितने प्रकार के होते हैं ? उदाहरण सहित बताइये ।

How many types of metallic minerals are there ? Explain with example.

½ + 1½ = 2

15. भारत में औद्योगिक प्रदूषण से होने वाले कोई दो प्रभाव बताइये ।

Write any two impacts of industrial pollution in India.

1 + 1 = 2

16. जन्म दर व मृत्यु दर से आप क्या समझते हैं ?

What do you understand by birth rate and death rate ?

1 + 1 = 2

17. भारत में पाइप लाइन परिवहन की व्याख्या कीजिए ।

Explain the pipeline transport in India.

2

18. सड़क पर पैदल चलते समय आप किन-किन बातों को ध्यान में रखेंगे ?

What are the things you will keep in mind while walking on the road ?

1 + 1 = 2

19. ठोस कचरा प्रबन्धन कार्यक्रम से आप क्या समझते हैं ?

What do you understand by solid waste management programme ?

2

S-08-Social Science

20. अगर हमीर देव चौहान के स्थान पर आप होते, तो अलाऊद्दीन खिलजी के बागियों के प्रति क्या नीति अपनाते और क्यों ?

If you would have been in the place of Hamir Dev Chauhan, what policy you might have adopted for the rebels of Alauddin Khilji and why ?

2 + 2 = 4

21. मौर्यकालीन केन्द्रीय प्रशासन का मूल्यांकन कीजिए ।

Evaluate the central administration of the Mauryan period.

4

22. इटली के एकीकरण में मैजिनी के योगदान का उल्लेख कीजिए ।

Mention the role of Mazzini in the unification of Italy.

4

23. आपके मतानुसार 'सामाजिक लोकतंत्र' के लिये कौन सी दशाएँ आवश्यक हैं ? स्पष्ट कीजिये ।

According to your view what conditions are essential for 'social democracy' ? Explain.

4

24. "भारतीय अर्थव्यवस्था एक विकासशील अर्थव्यवस्था है ।" इस कथन के पक्ष में कोई चार तर्क समझाइए ।

"Indian economy is a developing economy." Explain any four arguments in favour of this statement.

1 × 4 = 4

अथवा/OR

वैश्वीकरण से होने वाले किन्हीं चार लाभों को समझाइए ।

Explain any four advantages of globalisation.

25. मुद्रा किसे कहते हैं ? मुद्रा के किन्हीं तीन कार्यों को स्पष्ट कीजिये ।

What is Money ? Clarify any three functions of Money.

1 + 3 = 4

26. एक जागरूक नागरिक के रूप में, उपभोक्ता शोषण के कोई चार कारण सुझाइए ।

As a conscious citizen, write any four causes of consumer exploitation.

1 × 4 = 4

27. भारतीय राष्ट्रीय आन्दोलन में श्यामजी कृष्ण वर्मा और विनायक दामोदर सावरकर के योगदान का मूल्यांकन कीजिए ।

Evaluate the contribution of Shyamji Krishna Varma and Vinayak Damodar Savarkar in the Indian National Movement.

3 + 3 = 6

अथवा/OR

निम्नलिखित पर संक्षिप्त टिप्पणियाँ लिखिए :

2 + 2 + 2 = 6

- (i) संथाल विद्रोह
- (ii) जलियाँवाला बाग हत्याकाण्ड
- (iii) साइमन कमीशन

Write short notes on the following :

- (i) Santhal Uprising
- (ii) Jallianwala Bagh Massacre
- (iii) Simon Commission

28. संसद के कार्य एवं शक्तियों का वर्णन कीजिये ।

Describe the functions and powers of the Parliament.

7

अथवा/OR

राष्ट्रपति की कार्यपालिका एवं विधायी शक्तियों का वर्णन कीजिये ।

Describe the executive and legislative powers of the President.

29. राज्य विधान परिषद् की शक्तियों की विवेचना कीजिये ।

Explain the powers of the State Legislative Council.

6

अथवा/OR

उच्च न्यायालय के कार्यक्षेत्र एवं शक्तियों की विवेचना कीजिये ।

Explain the jurisdiction and powers of the High Court.

30. दिये गए भारत के मानचित्र में निम्नलिखित को अंकित कीजिए :

- (अ) खेतड़ी
- (ब) दिल्ली
- (स) जमशेदपुर
- (द) पारादीप
- (य) हीराकुड परियोजना

Mark the following in the given outline Map of India :

1 × 5 = 5

- (a) Khetari
- (b) Delhi
- (c) Jamshedpur
- (d) Paradeep
- (e) Hirakud Project

नामांक

Roll No.

--	--	--	--	--	--	--

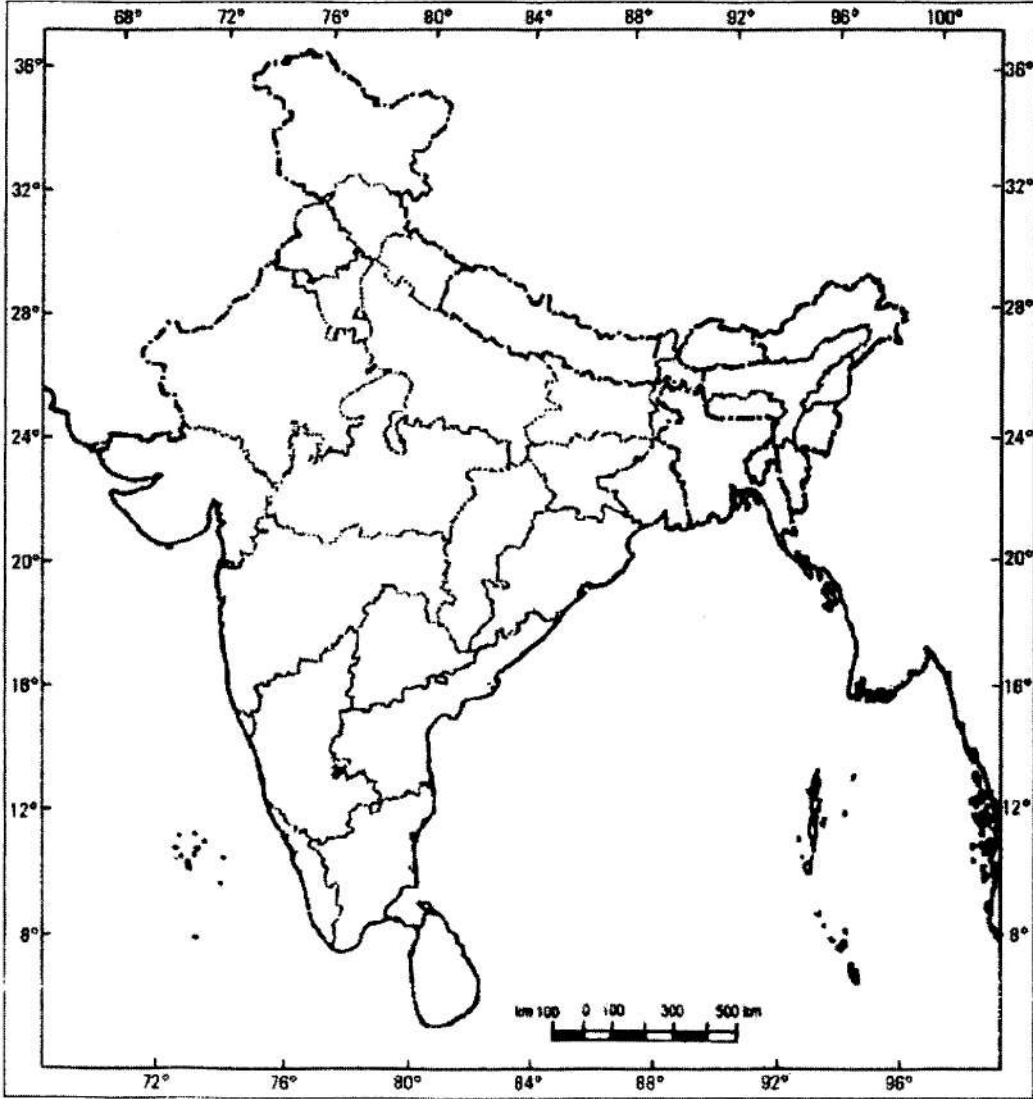
S-08-Social Science

माध्यमिक परीक्षा, 2018

SECONDARY EXAMINATION, 2018

सामाजिक विज्ञान

SOCIAL SCIENCE



S-08-Social Science

Sl.No. :

नामांक			Roll No.			

No. of Questions – 30

S-08–Social Science

No. of Printed Pages – 7 + map

Tear Here

माध्यमिक परीक्षा, 2019
SECONDARY EXAMINATION, 2019
सामाजिक विज्ञान
SOCIAL SCIENCE

समय : 3¼ घण्टे

पूर्णांक : 80

परीक्षार्थियों के लिए सामान्य निर्देश :

GENERAL INSTRUCTIONS TO THE EXAMINEES :

- 1) परीक्षार्थी सर्वप्रथम अपने प्रश्न पत्र पर नामांक अनिवार्यतः लिखें ।

Candidate must write first his / her Roll No. on the question paper compulsorily.

- 2) सभी प्रश्न करने अनिवार्य हैं ।

All the questions are compulsory.

- 3) प्रत्येक प्रश्न का उत्तर दी गई उत्तर-पुस्तिका में ही लिखें ।

Write the answer to each question in the given answer-book only.

प्रश्न पत्र को खोलने के लिए यहाँ फाँड़ें
TEAR HERE TO OPEN THE QUESTION PAPER

यहाँ से काटिए

- 4) जिन प्रश्नों में आन्तरिक खण्ड हैं, उन सभी के उत्तर एक साथ ही लिखें।

For questions having more than one part, the answers to those parts are to be written together in continuity.

- 5) प्रश्नपत्र के हिन्दी व अंग्रेजी रूपान्तर में किसी प्रकार की त्रुटि / अन्तर / विरोधाभास होने पर हिन्दी भाषा के प्रश्न को सही मानें।

If there is any error / difference / contradiction in Hindi & English versions of the question paper, the question of Hindi version should be treated valid.

6) प्रश्न संख्या	अंक प्रत्येक प्रश्न	उत्तर की शब्द सीमा
1 - 10	1	20 शब्द
11 - 19	2	40 शब्द
20 - 26	4	100 शब्द
27, 29	6	150 शब्द
28	7	150 शब्द

Q. Nos.	Marks per Question	Word limit of Answer
1 - 10	1	20 words
11 - 19	2	40 words
20 - 26	4	100 words
27 , 29	6	150 words
28	7	150 words

- 7) प्रश्न संख्या 30 मानचित्र कार्य से संबंधित है और 5 अंक का है।

Question No. 30 is related to map-work carrying 5 marks.

- 8) प्रश्न संख्या 24 व 27 से 29 तक में आंतरिक विकल्प हैं।

There are internal choices in Question Nos. 24 and 27 to 29.

- 1) किन्ही दो महाजनपदों के नाम लिखिये? [$\frac{1}{2}+\frac{1}{2}=1$]
Write the names of any two Mahajanpadas.
- 2) दीवाने – आरिज क्या था? [1]
What was the Diwan-i-Ariz?
- 3) लोकतन्त्र के बहुलवादी सिद्धान्त के किन्हीं दो समर्थकों के नाम बताइये। [$\frac{1}{2}+\frac{1}{2}=1$]
Write the name of any two supporters of the pluralistic theory of democracy.
- 4) तुंगभद्रा बहुउद्देशीय परियोजना में कौन कौन से राज्य हिस्सेदार हैं? [$\frac{1}{2}+\frac{1}{2}=1$]
Which states are partner in Tungabhadra multipurpose project?
- 5) उत्पादन से क्या आशय है? [1]
What is meant by production?
- 6) तृतीयक क्षेत्र की किन्हीं दो गतिविधियों के नाम लिखिए। [$\frac{1}{2}+\frac{1}{2}=1$]
Name any two activities of tertiary sector.
- 7) नीति आयोग का कोई एक कार्य बताइए। [1]
State any one function of NITI Aayog.
- 8) माँग प्रेरित मुद्रा स्फीति किसे कहते हैं? [1]
What is demand driven inflation?
- 9) गरीबी के दुष्चक्र का निहितार्थ क्या है? [1]
What is the implication of the vicious cycle of poverty?
- 10) मौसमी बेरोजगारी क्या है? [1]
What is seasonal unemployment?
- 11) एक राज्य के मुख्यमंत्री होने के नाते विधानसभा के नेता के रूप में आप कौन – कौन से कार्य करेंगे? कोई दो कार्य लिखिए। [1+1=2]
As a chiefminister of a state, which functions will you perform in the role of leader of the legislative assembly. Write any two.

12) पश्चिमी राजस्थान में ग्रीष्म ऋतु में वर्षा जल के सूखने के बाद जलीय आवश्यकता की पूर्ति के लिए आप किस जल स्रोत का उपयोग कर सकते हैं? इस जल स्रोत में निर्माण सम्बन्धी कोई दो विशेषताएँ लिखिए। [1+½+½=2]
Which water source can you use in western Rajasthan to meet the requirement of water in summer season after drying up of rain water? Write any two characteristics related to construction of such water source.

13) चावल उत्पादन के लिए तापमान एवम् वर्षा सम्बन्धी आवश्यक दशाएँ लिखिए। [1+1=2]
Write the necessary conditions related to temperature and rainfall for the production of rice.

14) सूची - I को सूची -II से सुमेलित कीजिए। [½+½+½+½ = 2]

सूची - I (कोयले के प्रकार)	सूची - II (कार्बन की मात्रा)
अ) बिटुमिनस	i) 35 से 50%
ब) लिग्नाइट	ii) 15 से 35%
स) पीट	iii) 80 से 90%
द) ऐन्थ्रेसाइड	iv) 75 से 80%

Match the list - I with list - II

List - I (Types of coal)	List - II (Quantity of carbon)
a) Bituminous	i) 35 to 50%
b) Lignite	ii) 15 to 35%
c) Peat	iii) 80 to 90%
d) Anthracite	iv) 75 to 80%

15) लखनऊ के समीप गोमती नदी में मछलियों को मरने से बचाने के लिए आप कौन से दो उपाय सुझायेंगे? [1+1= 2]
Which two measures will you suggest to save fish in Gomati river near Lucknow?

- 16) राजस्थान में बालिका शिक्षा को बढ़ावा देने के लिए चलाई जा रही कोई चार योजनाएँ लिखिए।

[$\frac{1}{2}+\frac{1}{2}+\frac{1}{2}+\frac{1}{2} = 2$]

Write any four schemes being run to promote girl education in Rajasthan.

- 17) इन्टरनेट के महत्त्व के कोई चार बिन्दू लिखिए।

[$\frac{1}{2}+\frac{1}{2}+\frac{1}{2}+\frac{1}{2} = 2$]

Write any four points to establish the importance of internet.

- 18) वाहन चलाते समय चालक द्वारा कौनसी सावधानियाँ बरती जानी चाहिए? कोई चार लिखिए।

[$\frac{1}{2}+\frac{1}{2}+\frac{1}{2}+\frac{1}{2} = 2$]

What precautions should be taken by a driver at the time of driving a vehicle?
Write any four.

- 19) स्वच्छता के किन्हीं दो प्रकारों का उल्लेख कीजिए।

[1+1= 2]

Mention any two types of sanitation.

- 20) 'धम्मयात्रा' एवं 'धम्ममहामात्र' से आप क्या समझते हैं? स्पष्ट कीजिए।

[2+2 = 4]

What do you understand by 'Dhammayatra' and 'Dhamm-Mahamatra'? Clarify.

- 21) महाराणा प्रताप को अधीन करने के लिए अकबर ने क्या-क्या कदम उठाए?

[4]

What steps Akbar had taken for the subordinations of Maharana Pratap?

- 22) यूरोप में राष्ट्रवाद के किन्हीं चार कारणों का उल्लेख कीजिए।

[1+1+1+1 = 4]

Describe any four reasons for the Nationalism in Europe.

- 23) आप लोकतन्त्र की सफलता के लिये किन दो परिस्थितियों को आवश्यक मानते हैं? विवेचना किजिये।

[2+2 = 4]

Which two conditions are essential for the success of democracy according to you. Explain.

- 24) भारतीय अर्थव्यवस्था की अविकसित अर्थव्यवस्था के रूप में किन्हीं चार विशेषताओं का वर्णन कीजिए। [1×4 = 4]
Describe any four characteristics of Indian Economy as an undeveloped economy.

अथवा / OR

स्वदेशी से होनेवाले किन्हीं चार लाभों को समझाइए। [1×4 = 4]

Explain any four advantages of Swadeshi.

- 25) सार्व के संस्थागत तथा गैर – संस्थागत स्रोतों में भेद कीजिए। [2+2 = 4]

Distinguish between institutional and non-institutional sources of credit.

- 26) आपके अनुसार उपभोक्ता को हानि से बचने के लिए किन कर्तव्यों का पालन करना चाहिए? [1×4 = 4]

According to you what duties should be followed by a consumer in order to avoid the loss?

- 27) राजस्थान में किसान आन्दोलन के क्या कारण थे? राजस्थान के किन्हीं दो किसान आन्दोलनों पर प्रकाश डालिए। [2+2+2 = 6]

What were the causes for the Peasant's Movements in Rajasthan? Throw light on any two Peasant's Movements of Rajasthan.

अथवा / OR

निम्नलिखित पर संक्षिप्त टिप्पणीयाँ लिखिए। [2+2+2 = 6]

- i) प्रथम आंग्लमराठा युद्ध
- ii) द्वितीय आंग्लमराठा युद्ध
- iii) गोविन्द गुरू

Write short notes on the following.

- i) First Anglo - Maratha War
- ii) Second Anglo - Maratha War
- iii) Govind Guru

28) भारत के प्रधानमंत्री के कार्य एवं शक्तियों का वर्णन कीजिये। [7]

Describe the powers and functions of the Prime Minister of India.

अथवा/OR

राज्यसभा के कार्य एवं शक्तियों का वर्णन कीजिये। [7]

Describe the powers & functions of the Rajya Sabha.

29) राज्यपाल की निम्न शक्तियों की विवेचना कीजिये- [3+3 = 6]

i) कार्यपालिका शक्तियाँ

ii) विधायी शक्तियाँ

Explain the following powers of the Governor-

i) Executive powers

ii) Legislative powers

अथवा/OR

उच्च न्यायालय से सम्बन्धित निम्न बिन्दुओं की विवेचना कीजिये- [3+3 = 6]

i) न्यायाधीशों की नियुक्ति एवं योग्यताएँ

ii) उच्च न्यायालय की स्वतंत्रता के लिये संवैधानिक प्रावधान

Explain the following points related to the High court-

i) Appointment and qualifications of the judges

ii) Constitutional arrangements for the independence of the High - court.

30) दिये गये भारत के मानचित्र में अंकित कीजिए:- [5×1 = 5]

अ) अहमदाबाद,

ब) दादरा और नगर हवेली,

स) आगरा,

द) सिक्किम व

य) दिल्ली

Mark the following in the given outline map of India

a) Ahmedabad,

b) Dadra and Nagar Haveli,

c) Agra,

d) Sikkim and

e) Delhi



DO NOT WRITE ANYTHING HERE

Sl.No. :

नामांक

Roll No.

--	--	--	--	--	--	--

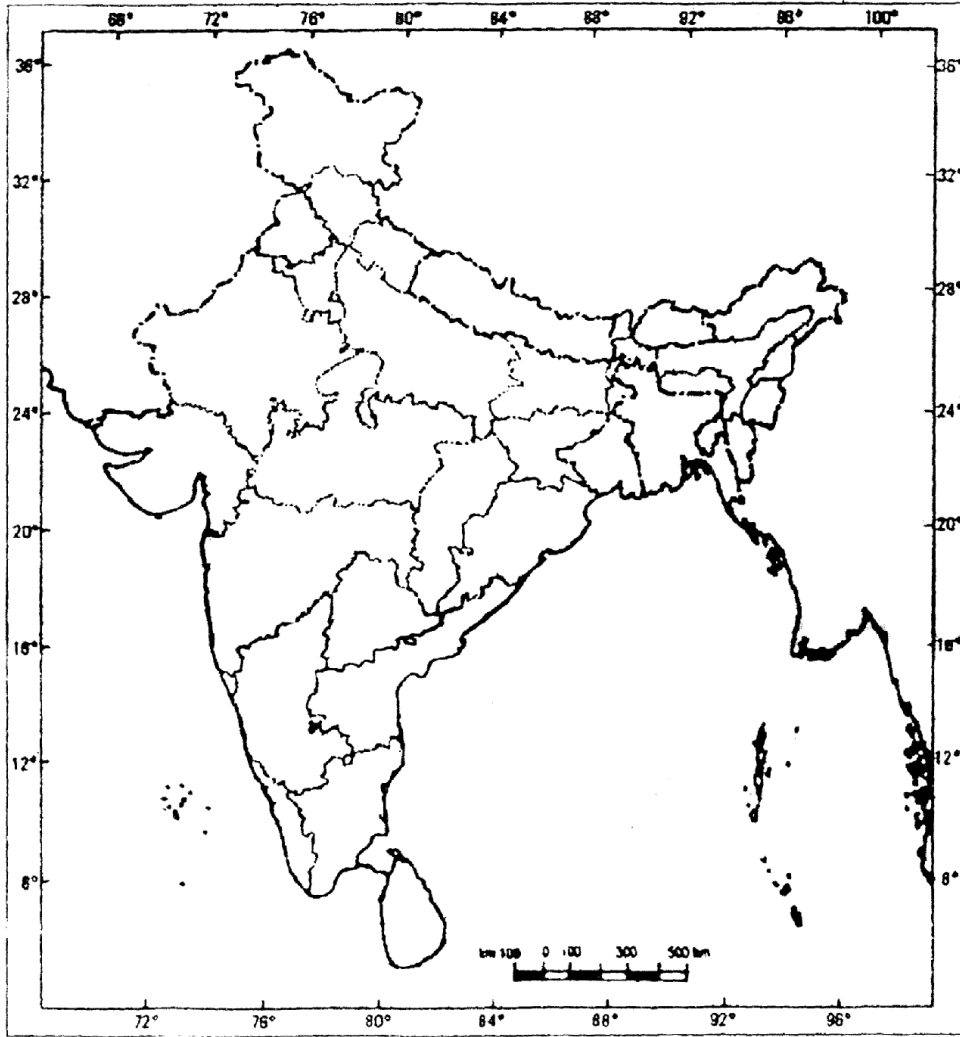
S-08-Social Science

माध्यमिक परीक्षा, 2019

SECONDARY EXAMINATION, 2019

सामाजिक विज्ञान

SOCIAL SCIENCE



Sl.No. :

नामांक			Roll No.			

No. of Questions – 30

S-08–Social Science

No. of Printed Pages – 7 + map

Tear Here

माध्यमिक परीक्षा, 2020
SECONDARY EXAMINATION, 2020

सामाजिक विज्ञान
SOCIAL SCIENCE

समय : 3¼ घण्टे

पूर्णांक : 80

प्रश्न पत्र को खोलने के लिए यहाँ फाँड़ें
TEAR HERE TO OPEN THE QUESTION PAPER

परीक्षार्थियों के लिए सामान्य निर्देश :

GENERAL INSTRUCTIONS TO THE EXAMINEES :

- 1) परीक्षार्थी सर्वप्रथम अपने प्रश्न पत्र पर नामांक अनिवार्यतः लिखें ।

Candidate must write first his / her Roll No. on the question paper compulsorily.

- 2) सभी प्रश्न करने अनिवार्य हैं ।

All the questions are compulsory.

- 3) प्रत्येक प्रश्न का उत्तर दी गई उत्तर-पुस्तिका में ही लिखें ।

Write the answer to each question in the given answer-book only.

यहाँ से काटिए

- 4) जिन प्रश्नों में आन्तरिक खण्ड हैं, उन सभी के उत्तर एक साथ ही लिखें।

For questions having more than one part, the answers to those parts are to be written together in continuity.

- 5) प्रश्नपत्र के हिन्दी व अंग्रेजी रूपान्तर में किसी प्रकार की त्रुटि / अन्तर / विरोधाभास होने पर हिन्दी भाषा के प्रश्न को सही मानें।

If there is any error / difference / contradiction in Hindi & English versions of the question paper, the question of Hindi version should be treated valid.

6) प्रश्न संख्या	अंक प्रत्येक प्रश्न	उत्तर की शब्द सीमा
1 - 10	1	20 शब्द
11 - 19	2	40 शब्द
20 - 26	4	100 शब्द
27, 29	6	150 शब्द
28	7	150 शब्द

Q. Nos.	Marks per Question	Word limit of Answer
1 - 10	1	20 words
11 - 19	2	40 words
20 - 26	4	100 words
27 , 29	6	150 words
28	7	150 words

- 7) प्रश्न संख्या 30 मानचित्र कार्य से संबंधित है और 5 अंक का है।

Question No. 30 is related to map-work carrying 5 marks.

- 8) प्रश्न संख्या 24 व 27 से 29 तक में आंतरिक विकल्प हैं।

There are internal choices in Question Nos. 24 and 27 to 29.

- 1) मौर्यवंश का संस्थापक कौन था? [1]
Who was the founder of the Mourya Dynasty?
- 2) अकबर ने इबादत खाने का निर्माण क्यों करवाया? [1]
Why did Akbar build Ibadat Khana?
- 3) वर्तमान समय में प्रत्यक्ष लोकतन्त्र कहाँ पाया जाता है? [1]
Where is the direct democracy found at present?
- 4) सन् 2011 की जनगणना के अनुसार भारत का सबसे अधिक जनसंख्या वाला राज्य कौनसा है? [1]
According to the 2011 census, which is the most populated state in the India.
- 5) भारत में राष्ट्रीय आय गणना के प्रथम अनुमान किसने लगाए? [1]
Who was the first estimator of national income of India?
- 6) भारत में वित्तीय वर्ष की समयावधि क्या है? [1]
What is the time period of a financial year in India?
- 7) नियोजन क्या है? [1]
What is planning?
- 8) मुद्रा स्थिति नियंत्रण का कोई एक मौद्रिक उपाय लिखिए। [1]
Write any one monetary measure to control the inflation.
- 9) भारत में गरीबी का कोई एक आर्थिक कारण लिखिए। [1]
Write any one economic factor of poverty in India.
- 10) छिपी या प्रच्छन्न बेरोजगारी क्या है? [1]
What is the hidden unemployment?

- 11) आप अपने राज्य की विधानसभा का चुनाव लड़ना चाहते हैं, इस हेतु कौनसी योग्यताएँ होनी आवश्यक हैं, लिखिये। [2]

You want to contest the assembly election of your state, what qualifications are necessary for this, mention.

- 12) केन्द्र सरकार के द्वारा संचालित किन्हीं चार जल परियोजनाओं के नाम लिखिए। [$1\frac{1}{2}+1\frac{1}{2}+1\frac{1}{2}+1\frac{1}{2} = 2$]

Write the names of any four water projects run by the Central Government.

- 13) व्यापारिक फसलें क्या हैं? कोई दो व्यापारिक फसलों के नाम लिखिए। [$1+1\frac{1}{2}+1\frac{1}{2} = 2$]

What are commercial crops? Write the names of any two commercial crops in India.

- 14) धात्विक खनिज क्या है? लौह धातु खनिजों के कोई दो उदाहरण दें। [$1+1\frac{1}{2}+1\frac{1}{2} = 2$]

What is metallic mineral? Write any two examples of ferrous metal minerals.

- 15) “भारत में सूती वस्त्र उद्योग संकट में हैं”। पक्ष में कोई दो कारण स्पष्ट कीजिए। [$1+1 = 2$]

“Cotton textile industry in India is in Trouble”. Specify any two reasons in favour.

- 16) राष्ट्रीय जनसंख्या नीति 2000 की संक्षिप्त में व्याख्या कीजिए। [2]

Describe the National Population Policy of year 2000 in short?

- 17) स्वर्णिम चतुर्भुज महाराजमार्ग की व्याख्या कीजिए। [2]

Explain the Golden Quadrilateral Super Highway.

- 18) सड़क दुर्घटनाओं की रोकथाम हेतु कोई चार उपाय सुझाइए। [$1\frac{1}{2}+1\frac{1}{2}+1\frac{1}{2}+1\frac{1}{2} = 2$]

Give any four suggestions to prevent road accidents.

- 19) “स्वच्छ भारत मिशन से ग्रामीण क्षेत्रों की स्थिति सुधर रही है”। पक्ष में कोई दो कारण बताइये। [2]
 “Swachh Bharat Mission is improving the condition of rural areas”. Explain any two reasons in favour.
- 20) गुप्तकाल की कोई चार प्रसिद्ध सांस्कृतिक उपलब्धियाँ लिखिए। [1×4 = 4]
 Write down any four famous cultural achievements of Gupta period.
- 21) बाबर भारत में किन विजयों के लिए प्रसिद्ध है? [1×4 = 4]
 For which victories is Babar famous in India?
- 22) जर्मनी के एकीकरण में प्रमुख बाधाएँ कौन-कौन सी थी? किन्हीं चार का उल्लेख कीजिए। [1×4 = 4]
 What were the major obstacles in the unification of Germany? Mention any four.
- 23) ‘लोकतन्त्र एक श्रेष्ठ शासन व्यवस्था है’। इस कथन के पक्ष में आप लोकतन्त्र के किन्हीं दो गुणों का वर्णन कीजिये। [2+2 = 4]
 ‘Democracy is the best governing system’. Describe any two merits of democracy in favour of the statement.
- 24) भारतीय अर्थव्यवस्था की विकासशीलता को दर्शाने वाली कोई चार विशेषताओं का वर्णन कीजिए। [1×4 = 4]
 Describe any four characteristics of Indian economy as a developing economy.
 अथवा/OR
 भारतीय अर्थव्यवस्था में आर्थिक सुधारों का संक्षेप में वर्णन कीजिए। [4]
 Briefly describe the economic reforms in Indian economy.
- 25) वस्तु विनिमय प्रणाली को समझाइये। [4]
 Explain the barter system.

- 26) आपके अनुसार उपभोक्ता के रूप में आपको कौन-कौन से विधिक अधिकार प्राप्त हैं? कोई चार का उल्लेख कीजिए। [1×4 = 4]

According to you, what legal rights do you have as a consumer? Describe any four.

- 27) सीकर किसान आन्दोलन पर एक निबन्ध लिखिए। [6]

Write an essay on Sikar Peasant Movement.

अथवा/OR

निम्नलिखित में से किन्हीं तीन पर टिप्पणी लिखिए : [2+2+2 = 6]

- i) सन्यासी विद्रोह
- ii) भील विद्रोह
- iii) श्यामजी कृष्ण वर्मा
- iv) चम्पारण किसान आन्दोलन

Write a brief note on any three of the following :

- i) Sanyasi Rebellion
- ii) Bhil Rebellion
- iii) Shyamji Krishna Varma
- iv) Champaran Peasant Movement

- 28) भारत के राष्ट्रपति की निम्न शक्तियों का वर्णन कीजिये - [7]

- अ) कार्यपालिका अथवा प्रशासनिक शक्तियाँ
- ब) विधायी शक्तियाँ

Describe the following powers of the President of India -

- a) Executive or Administrative powers
- b) Legislative powers

अथवा/OR

भारत के सर्वोच्च न्यायालय की निम्न शक्तियों एवं कार्यों का वर्णन कीजिये –

अ) प्रारम्भिक क्षेत्राधिकार

ब) अपीलिय क्षेत्राधिकार

Describe the following powers and functions of the Supreme Court of India -

a) Original Jurisdiction

b) Appellate Jurisdiction

29) राज्य मन्त्रिपरिषद् की शक्तियों एवं कार्यों की विवेचना कीजिये। [6]

Explain the powers and functions of the State Council of Ministers.

अथवा/OR

राज्य विधान-परिषद् के गठन की विस्तृत विवेचना कीजिये।

Explain the Formation of the State Legislative-Council.

30) दिये गये भारत के रेखा मानचित्र में निम्नलिखित को अंकित कीजिए : [5×1 = 5]

अ) हीराकुण्ड परियोजना

ब) कपास फसल क्षेत्र

स) बोकारो

द) विशाखापत्तनम

य) तूतीकोरिन

Mark the following in the given outline map of India :

a) Hirakund Project

b) Cotton cropped area

c) Bokaro

d) Visakhapatnam

e) Tuticorin



DO NOT WRITE ANYTHING HERE

Sl.No. :

नामांक

Roll No.

--	--	--	--	--	--	--

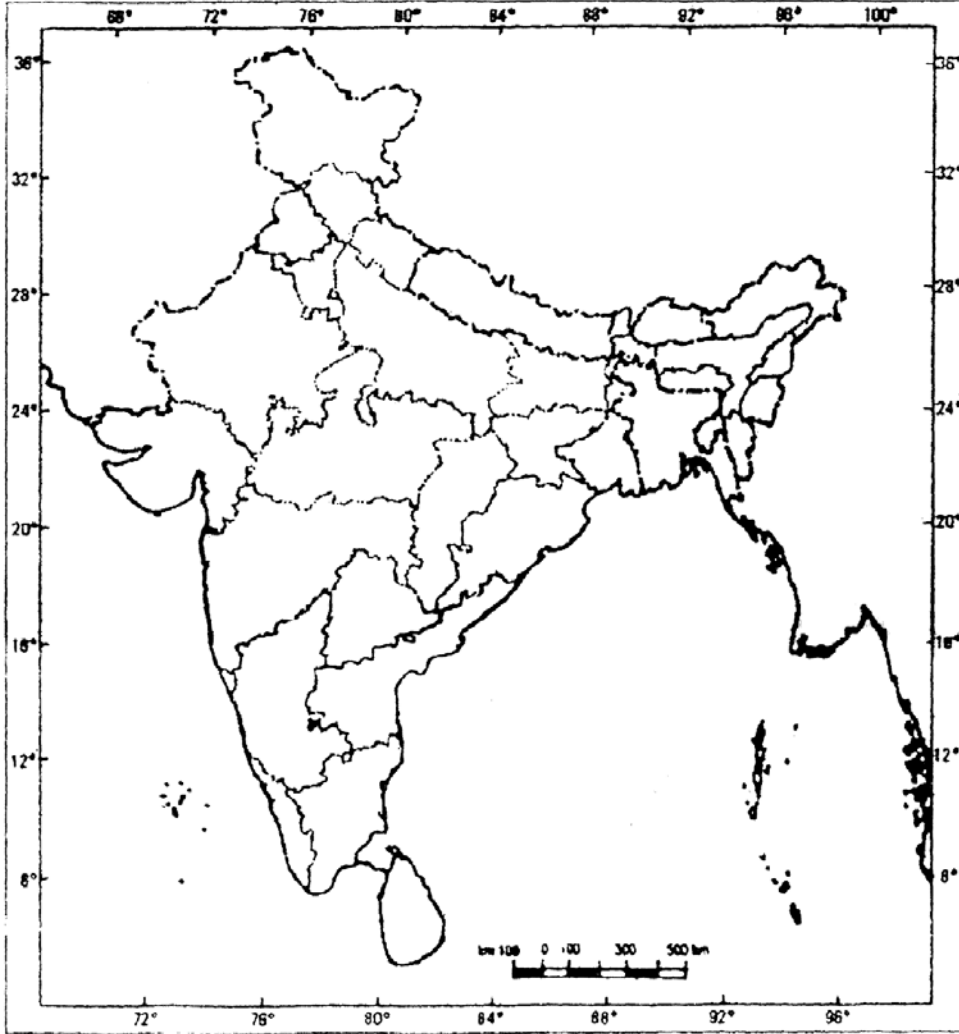
S-08-Social Science

माध्यमिक परीक्षा, 2020

SECONDARY EXAMINATION, 2020

सामाजिक विज्ञान

SOCIAL SCIENCE



Sl.No. :

नामांक			Roll No.			

No. of Questions – 23

S-08-Social Science

No. of Printed Pages – 11 + map

Tear Here

माध्यमिक परीक्षा, 2022

SECONDARY EXAMINATION, 2022

सामाजिक विज्ञान

SOCIAL SCIENCE

समय : 2 घण्टे 45 मिनट

पूर्णांक : 80

परीक्षार्थियों के लिए सामान्य निर्देश :

GENERAL INSTRUCTIONS TO THE EXAMINEES :

1) परीक्षार्थी सर्वप्रथम अपने प्रश्न पत्र पर नामांक अनिवार्यतः लिखें।

Candidate must write first his / her Roll No. on the question paper compulsorily.

2) सभी प्रश्न हल करने अनिवार्य हैं।

All the questions are compulsory.

3) प्रत्येक प्रश्न का उत्तर दी गई उत्तर-पुस्तिका में ही लिखें।

Write the answer to each question in the given answer-book only.

प्रश्न पत्र को खोलने के लिए यहाँ फाँड़ें

TEAR HERE TO OPEN THE QUESTION PAPER

यहाँ से काटिए

खण्ड - अ
SECTION - A

बहुविकल्पी प्रश्न :

Multiple choice :

1) निम्न प्रश्नों के उत्तर का सही विकल्प चयन कर उत्तर पुस्तिका में लिखिए।

Select the correct answer of following questions and write in the answer book.

i) जर्मनिया किस राष्ट्र का रूपक बन गई थी? [1]

अ) ब्रिटेन

ब) फ्रांस

स) जर्मनी

द) रूस

Which Nation did Germania became the allegory?

A) Britain

B) France

C) Germany

D) Russia

ii) उगते सूर्य की किरणों निम्न में से किसका प्रतीक है? [1]

अ) आजादी मिलना

ब) बहादुरी

स) शांति

द) एक नये युग का सूत्रपात

Which of the following symbolizes the rays of the rising Sun?

A) Being Freed

B) Heroism

C) Peace

D) Beginning of a new era

iii) निम्न में से किसे साहित्य का नोबल पुरस्कार प्रदान किया गया? [1]

अ) सी.वी. रमन

ब) वी.एस. नायपाल

स) मदर टेरेसा

द) अमर्त्य सेन

Who among the following was awarded the Nobel Prize for Literature?

A) C.V. Raman

B) V.S. Naipaul

C) Mother Teresa

D) Amartya Sen

- iv) "झूम खेती" क्या है? [1]
- अ) स्थानांतरी कृषि
ब) वाणिज्यिक कृषि
स) रोपण कृषि
द) गहन जीविका कृषि

What is "Jhum Cultivation"?

- A) Shifting Cultivation
B) Commercial Cultivation
C) Plantation Cultivation
D) Intensive Subsistence Cultivation

- v) सरदार सरोवर बांध किस नदी पर बनाया गया है? [1]
- अ) महानदी
ब) गंगा
स) नर्मदा
द) गोदावरी

Over which river has the Sardar Sarovar Dam been built?

- A) Mahanadi
B) Ganga
C) Narmada
D) Godavari

- vi) रबी फसलों का युग्म है? [1]
- अ) गेहूँ - जौ
ब) गेहूँ - चावल
स) ज्वार - बाजरा
द) सरसो - कपास

The Rabi Crop pair is -

- A) Wheat - Barley
B) Wheat - Rice
C) Jowar - Bajra
D) Mustard - Cotton

- vii) बेल्जियम की राजधानी का नाम है - [1]
- अ) कोलम्बो
ब) बैंकाक
स) नेमूर
द) ब्रूसेल्स

The name of the capital of Belgium is -

- A) Colombo
B) Bangkok
C) Namur
D) Brussels

- viii) निम्न में से कौनसा विषय संविधान में शक्तिवितरण की किसी भी सूची में नहीं है - [1]
- अ) व्यापार
ब) वैदेशिक सम्बन्ध
स) शिक्षा
द) कम्प्यूटर सॉफ्टवेयर

Which of the following subject is not in any list of power distribution in constitution?

- A) Trade
B) Foreign relation
C) Education
D) Computer software

ix) बामसेफ (BAMCEF) संगठन का सम्बन्ध है -

[1]

- अ) राजनेताओं से
ब) किसानों से
स) सरकारी कर्मचारियों से
द) मजदूरों से

BAMCEF organisation is related to -

- A) Politicians
B) Farmers
C) Government employees
D) Workers

x) मानव विकास रिपोर्ट जारी करने वाली संस्था है -

[1]

- अ) संयुक्त राष्ट्र विकास कार्यक्रम
ब) विश्व बैंक
स) रिजर्व बैंक
द) नीति आयोग

Human Development report is published by -

- A) United Nations Development Programme
B) World Bank
C) Reserve Bank
D) Niti Aayog

xi) द्वितीयक क्षेत्र से संबंधित व्यवसाय है -

[1]

- अ) उद्योग
ब) बैंकिंग
स) संचार सेवाएँ
द) भण्डारण सेवाएँ

Occupation related to secondary sector is -

- A) Industries
B) Banking
C) Communication services
D) Storage services

xii) निम्न में कौनसा देश सस्ता विनिर्माण केन्द्र का उदाहरण है -

[1]

- अ) इंग्लैण्ड
ब) चीन
स) ऑस्ट्रेलिया
द) अमेरिका

Which of the following countries is an example of a cheap manufacturing hub?

- A) England
B) China
C) Australia
D) America

2) रिक्त स्थान की पूर्ति कीजिये -

Fill in the blanks -

- i) एक साथ बहुत सारे देशों में व्यवसाय करने वाली कंपनियों को _____ निगम कहा जाता है। [1]
Companies, that do business in several countries at the same time are called _____ corporations.
- ii) जीवमंडल से प्राप्त संसाधन जिनमें जीवन व्याप्त है _____ कहलाते हैं। [1]
The resources, obtained from biosphere and which have life, are known as _____.
- iii) व्यक्तियों के बीच धार्मिक आस्था के आधार पर भेदभाव नहीं करने वाला व्यक्ति _____ कहलाता है। [1]
A person who does not discriminate others on the basis of religious beliefs, is known as _____.
- iv) किसी देश की आय उस देश के सभी _____ की आय है। [1]
Income of any country is the income of all the _____ of that country.
- v) तृतीयक क्षेत्रक को _____ भी कहा जाता है। [1]
Tertiary sector is also called as _____.
- vi) _____ में तीव्र उन्नति ने वैश्वीकरण की प्रक्रिया को उत्प्रेरित किया है। [1]
Rapid improvement in _____ has stimulated the globalisation process.

3) अतिलघुत्तरात्मक (प्रश्नों के उत्तर एक शब्द या एक पंक्ति में दीजिये) :

Very short (Write the answer of the question in one word or one line) :

- i) मारीआन की प्रतिमाएं सार्वजनिक चौकों पर क्यों लगाई गई? [1]
Why statues of Marianne were erected in public squares?
- ii) किस बीमारी ने 1890 के दशक में 90 प्रतिशत मवेशियों को मौत की नींद सुला दिया? [1]
Which disease killed 90 percent of cattle in the 1890s?
- iii) ब्रेटन वुड्स सम्मेलन किस देश में आयोजित किया गया? [1]
In which country was the Bretton woods conference held?
- iv) वनों से प्राप्त होने वाली दो वस्तुओं के नाम बताइए। [½+½=1]
Write names of two things that are obtained from forest.

- v) "टाँका" क्या है? [1]
What is a "Tanka"?
- vi) भारत में उगाई जाने वाली दो मुख्य रेशेदार फसलों के नाम बताइए। [½+½=1]
Write names of two major fibre crops grown in India.
- vii) श्रीलंका स्वतन्त्र राष्ट्र कब बना? [1]
When did Sri Lanka emerge as an independent country?
- viii) भारतीय संविधान में हिन्दी के अलावा कितनी भाषाओं को अनुसूचित भाषा का दर्जा दिया गया? [1]
How many languages are recognised as scheduled languages by the Indian constitution besides Hindi? <https://www.rajasthanboard.com>
- ix) किसी आन्दोलन के राजनीतिक दल के रूप में बदलने का कोई एक उदाहरण दीजिये। [1]
Give any one example of the transformation of the movement into a political party.
- x) धारणीय विकास से आप क्या समझते हैं? [1]
What do you understand by sustainable development?
- xi) आपके अनुसार भारत में अधिकांश लोग कहाँ नियोजित हैं? [1]
According to you where are most people of India employed?
- xii) रैनबैक्सी कम्पनी क्या उत्पादन करती है? [1]
What does Ranbaxy company produce?

खण्ड - ब

SECTION - B

लघुत्तरात्मक प्रश्न - प्रश्न स. 04 से 16 के उत्तर लिखिए (शब्द सीमा 50 शब्द) :

Short Answer Questions - Write the answer of the question Serial No. 04 to 16
(Words limitation of 50 words) :

- 4) रूढ़ीवाद क्या है? [2]
What is conservatism?
- 5) खेड़ा जिले के किसान किस कारण लगान चुकाने की हालत में नहीं थे? [2]
For what reasons the peasants of the Kheda district were not in position to pay the revenue?

- 6) आयात शुल्क क्या है? [2]
What is Tariff?
- 7) 'समुदाय द्वारा वन संरक्षण' को संक्षिप्त में समझाइए। [2]
Explain in brief the 'Forest Conservation by Community'.
- 8) भारत के जल - संसाधन मंत्री के रूप में यदि आपको एक नदी घाटी परियोजना का मसौदा तैयार करने को कहा जाए तो आप किन-किन बिन्दुओं का ध्यान रखेंगे? [2]
As the Water - Resource Minister of India, if you were asked to draft a river valley project, what points would you take into account?
- 9) कार्बनिक कृषि की व्याख्या कीजिए। [2]
Discuss organic agriculture.
- 10) सत्ता की साझेदारी में 'नियन्त्रण एवं सन्तुलन की व्यवस्था' को संक्षेप में स्पष्ट कीजिये। [2]
Explain in brief the 'system of check and balance' in power sharing.
- 11) संघीय व्यवस्था की कोई दो विशेषताओं को स्पष्ट कीजिये। [2]
Explain any two features of federal system.
- 12) आपके मतानुसार वर्ग विशेष के हित समूह और जन सामान्य के हित समूह में क्या अन्तर है? सोदाहरण समझाइये। [2]
According to your view what is the difference between sectional interest groups and public interest groups? Explain by example.
- 13) गैर नवीकरणीय साधन से आप क्या समझते हैं? [2]
What do you understand by non renewable resources?
- 14) प्राथमिक क्षेत्र की कोई दो गतिविधियों के उदाहरण दीजिए। [2]
Give any two examples of Primary Sector Activity.

- 15) स्वयं सहायता समूह के कोई दो लाभ लिखिए। [2]
Write any two benefits of self help group.
- 16) बहुराष्ट्रीय कम्पनियाँ कैसे कार्य करती हैं? समझाइये। [2]
How do multinational companies work? Explain.

खण्ड - स

SECTION - C

दीर्घ उत्तरीय प्रश्न - प्रश्न 17 से 20 के उत्तर लिखिये (शब्द सीमा 100 शब्द) :

Long answer type questions - Write the answers of the question 17 to 20
(Word limitation 100 words) :

- 17) अर्नेस्ट रेनन के अनुसार राष्ट्र क्या है? [3]
What is a nation according to Ernest Renan?
अथवा/OR
उदारवादी राष्ट्रवाद की विशेषताएँ लिखिये। [3]
Write the features of liberal nationalism.
- 18) समाप्यता के आधार पर संसाधनों का वर्गीकरण कीजिए। [1½+1½=3]
Classify the resources on the basis of exhaustibility.
अथवा/OR
मृदा अपरदन किसे कहते हैं? इसके कारण व संरक्षण के उपाय लिखिए। [1+1+1=3]
What is soil-erosion? Write the reasons of soil-erosion and methods of soil-conservation.
- 19) सामाजिक विभाजन के तीन आयामों की विवेचना कीजिये। [3]
Explain the three determinants of social divisions.
अथवा/OR
'सामाजिक भेदभाव की उत्पत्ति' को स्पष्ट कीजिये। [3]
Explain 'the origins of social differences'.

- 20) बैंको से आपको कौन-कौन सी सुविधाएँ प्राप्त होती हैं? किन्हीं तीन का उल्लेख कीजिए। [3]

What facilities do you get from banks? Mention any three.

अथवा/OR

“बैंक जमा राशि के एक बड़े भाग को ऋण देने के लिए इस्तेमाल करते हैं।” क्या आप इस कथन से सहमत हैं? अपने मत की विवेचना कीजिए। [3]

“Banks use a large part of their deposits for giving loans.” Do you agree with this statement? Explain your views.

खण्ड - द

SECTION - D

निबन्धात्मक प्रश्न - प्रश्न 21 से 22 के उत्तर लिखिये (शब्द सीमा 250 शब्द) :

Essay type questions - Write the answer of question 21 to 22 (Word limitation 250 words) :

- 21) असहयोग आन्दोलन के दौरान शहरों की गतिविधियों का वर्णन कीजिए। [4]

Describe the activities of the cities during Non-Cooperation Movement.

अथवा/OR

महात्मा गांधी ने अस्पृश्यता का उन्मूलन करने के लिए क्या-क्या कार्य किए? [4]

What did Mahatma Gandhi do to abolish untouchability?

- 22) धर्मनिरपेक्ष शासन के लिये भारतीय संविधान में कौनसे प्रावधान किये गये हैं? कोई चार की विवेचना कीजिये। [4]

What provisions are made in the Indian Constitution for Secular Governance? Discuss any four.

अथवा/OR

भारत में महिलाओं की स्थिति अभी भी पुरुषों से काफी पीछे है। क्यों? कोई चार कारण स्पष्ट कीजिये। [4]

Why is the position of women still far behind of men in India? Explain any four reasons.

23) प्रश्न का उत्तर दिये गये मानचित्र में दीजिए :-

Write the answer in the given map :-

दिये गये भारत के रेखा मानचित्र में निम्नलिखित को अंकित कीजिए -

[1+1+1+1=4]

- अ) अजमेर
- ब) गया
- स) दुर्ग
- द) नेल्लोर

Mark the following in the given outline map of India -

- A) Ajmer
- B) Gaya
- C) Durg
- D) Nellore

अथवा/OR

दिये गये भारत के रेखा मानचित्र में निम्नलिखित को अंकित कीजिए -

[1+1+1+1=4]

- अ) नरोरा
- ब) रावतभाटा
- स) तारापुर
- द) कलपक्कम

Mark the following in the given outline map of India -

- A) Naraura
- B) Rawatbhata
- C) Tarapur
- D) Kalpakkam



नामांक			Roll No.			

No. of Questions — 30

No. of Printed Pages — 3

S—98—Social Science (D & D)

माध्यमिक (मूक बधिर) परीक्षा, 2015

**सामाजिक विज्ञान
(SOCIAL SCIENCE)**

समय : $4\frac{1}{4}$ घण्टे

पूर्णांक : 80

परीक्षार्थियों के लिए सामान्य निर्देश :

1. परीक्षार्थी सर्वप्रथम अपने प्रश्न पत्र पर नामांक अनिवार्यतः लिखें।
2. **सभी** प्रश्न करने अनिवार्य हैं।
3. प्रत्येक प्रश्न का उत्तर दी गई उत्तर-पुस्तिका में ही लिखें।
4. जिन प्रश्नों में आन्तरिक खण्ड हैं, उन सभी के उत्तर एक साथ ही लिखें।
5. प्रश्नों के अंकभार उनके सम्मुख अंकित है।
6. प्रश्न संख्या 30 मानचित्र कार्य से संबन्धित है। मानचित्र को उत्तर पुस्तिका के साथ नत्थी करें।
7. प्रश्न संख्या 27 तथा 29 में आन्तरिक विकल्प हैं।

1. भारत में बाजरा उत्पादक प्रमुख राज्य कौनसा है ? 1
2. भारत के किन दो बन्दरगाहों से विदेशों के साथ व्यापार होता है ? $\frac{1}{2} + \frac{1}{2} = 1$
3. मुद्रा के आधुनिक रूप, करेंसी में क्या-क्या शामिल हैं ? $\frac{1}{2} + \frac{1}{2} = 1$
4. ऋण की कोई एक शर्त बताइये। 1
5. जॉबर कौन था ? 2
6. फ्लाई शटल के बारे में आप क्या जानते हैं ? 2
7. नवम्बर 1887 के खूनी रविवार से क्या अभिप्राय है ? 2
8. गोदान उपन्यास के लेखक कौन थे ? इससे समाज का कौनसा वर्ग प्रभावित हुआ ?
1 + 1 = 2
9. औद्योगीकरण के किन दुष्प्रभावों से प्रेरित होकर चार्ल्स डिकेन्स ने अपने उपन्यासों की रचना की थी ? 2
10. प्रधानमंत्री ग्रामीण सड़क परियोजनाओं के बारे में आप क्या समझते हैं ? 2
11. आन्दोलन के दो प्रकार कौनसे हैं ? 1 + 1 = 2
12. राजनीतिक दलों के लिये दो सुझाव दीजिये। 1 + 1 = 2
13. बहुराष्ट्रीय कम्पनियाँ अन्य कम्पनियों से किस प्रकार भिन्न हैं ? 2
14. भारत में उपभोक्ता दिवस कब एवं क्यों मनाया जाता है ? 1 + 2 = 3
15. चॉलों के बारे में आप क्या समझते हैं ? 3
16. लन्दन को साफ सुथरा बनाने के लिये उपाय लिखिये। 3
17. 19 वीं सदी के दौरान छापेखाने की तकनीक में कौनसे सुधार हुए ? कोई तीन कारकों को स्पष्ट कीजिये। 1 + 1 + 1 = 3
18. 'परीक्षा गुरु' नामक उपन्यास से लेखक ने युवाओं को क्या संदेश दिया है ? 3
19. एक पेय फसल का नाम बताइये तथा उसको उगाने के लिये भौगोलिक परिस्थितियों का विवरण दीजिए। 3
20. दबाव समूह क्या है ? कुछ उदाहरण देकर समझाइये। 2 + 1 = 3
21. राजनीतिक दल जनमत का निर्माण कैसे करते हैं ? 3

22. वैश्वीकरण से आप क्या समझते हैं ? अपने शब्दों में स्पष्ट कीजिये। 3
23. उपभोक्ता का शोषण करने वाले कौनसे कारक हैं ? किन्हीं तीन की चर्चा कीजिये।
1 + 1 + 1 = 3
24. निम्नलिखित पर टिप्पणी लिखिये : 2 + 2 = 4
क) गुटेनबर्ग प्रेस
ख) वर्नाक्यूलर प्रेस एक्ट।
25. 'भारत में सौर ऊर्जा का भविष्य उज्ज्वल है।' क्यों ? अपना मत स्पष्ट कीजिये। 4
26. 'भारत में रसायन उद्योग तेजी से विकसित हो रहा है।' इस कथन पर अपने विचार व्यक्त कीजिये। 4
27. आप लोकतन्त्र को अन्य शासन व्यवस्थाओं से बेहतर मानते हैं, क्यों ? स्पष्ट कीजिये।
1 + 1 + 1 + 1 = 4

अथवा

लोकतान्त्रिक व्यवस्थाओं को स्वयं भी दो शर्तों को पूरा करना होता है। इन शर्तों को स्पष्ट कीजिये।
2 + 2 = 4

28. लोकतन्त्र को किस प्रकार राजनीतिक तौर पर सुधारा जा सकता है ? 4
29. ऋण से आप क्या समझते हैं ? भारत में ऋण उपलब्ध करवाने वाले स्रोतों को स्पष्ट कीजिये।
1 + 3 = 4

अथवा

एक अर्थव्यवस्था में मुद्रा की भूमिका को स्पष्ट कीजिये। 4

30. भारत के मानचित्र में निम्नलिखित को दर्शायें :
(i) दो अभ्रक प्राप्ति के स्थानों को चिह्नित कीजिये। 1 + 1 = 2
(ii) दो अन्तरराष्ट्रीय हवाई अड्डे को चिह्नित कीजिये। 1 + 1 = 2

नामांक

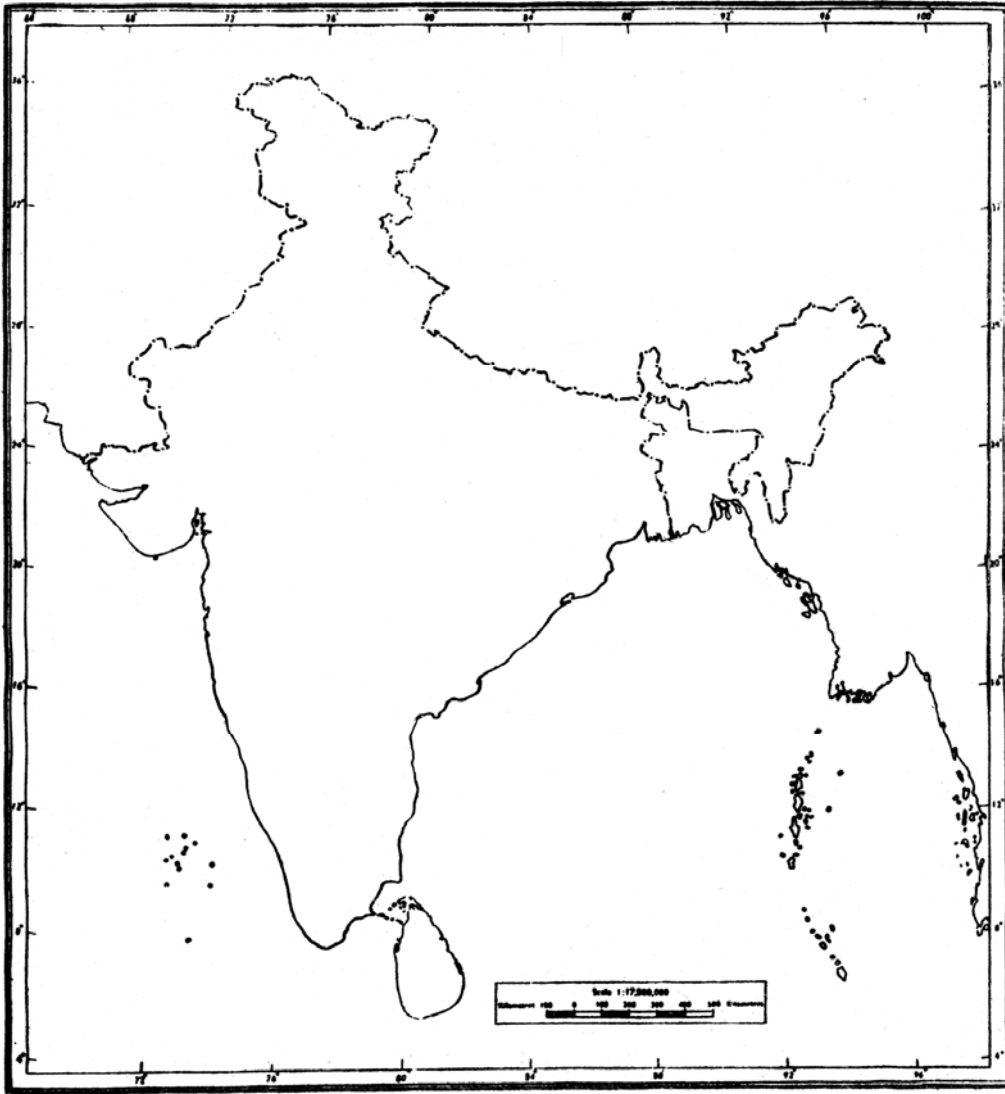
Roll No.

--	--	--	--	--	--	--

S—98—Social Science (D & D)

माध्यमिक (मूक बधिर) परीक्षा, 2015

SOCIAL SCIENCE



S-40988

नामांक			Roll No.			

No. of Questions — 30

No. of Printed Pages — 3

S—98—Social Science (D & D)

माध्यमिक (मूक बधिर) परीक्षा, 2013

**सामाजिक विज्ञान
(SOCIAL SCIENCE)**

समय : $4\frac{1}{4}$ घण्टे

पूर्णांक : 80

परीक्षार्थियों के लिए सामान्य निर्देश :

1. परीक्षार्थी सर्वप्रथम अपने प्रश्न पत्र पर नामांक अनिवार्यतः लिखें।
2. **सभी** प्रश्न करने अनिवार्य हैं।
3. प्रत्येक प्रश्न का उत्तर दी गई उत्तर-पुस्तिका में ही लिखें।
4. जिन प्रश्नों में आन्तरिक खण्ड हैं, उन सभी के उत्तर एक साथ ही लिखें।
5. प्रश्नों के अंकभार उनके सम्मुख अंकित है।
6. प्रश्न संख्या 30 मानचित्र कार्य से संबन्धित है। मानचित्र को उत्तर पुस्तिका के साथ नत्थी करें।
7. प्रश्न संख्या 27 तथा 29 में आन्तरिक विकल्प हैं।

1. दो देशों के मध्य होने वाले व्यापार को क्या कहते हैं ? 1
2. मुद्रण की सबसे पहली तकनीक किन-किन देशों में विकसित हुई ? 1
3. औपनिवेशिक काल में किन दो बन्दरगाहों का महत्व बढ़ गया था ? 1
4. भारत की तीन शस्य ऋतुओं के नाम लिखिए। 1
5. ऋण के औपचारिक और अनौपचारिक स्रोतों में अन्तर बताइये। 2
6. विकास में ऋण की भूमिका का विश्लेषण कीजिए। 2
7. वैश्वीकरण से आप क्या समझते हैं ? 2
8. चार्ल्स डिकेन्स द्वारा कौन से दो उपन्यासों की रचना की गई ? 2
9. पहले विश्व युद्ध के समय भारत का औद्योगिक उत्पादन क्यों बढ़ा ? 2
10. विक्टोरियाकालीन ब्रिटेन में उच्च वर्ग के लोग हाथ से बनी चीजों को पसन्द करते थे। कोई दो कारण लिखिए। 2
11. ब्रिटेन के अमीर परिवारों एवं गरीब परिवारों के मनोरंजन के साधनों की तुलना कीजिए। 2
12. उपन्यासों का युवाओं पर क्या प्रभाव पड़े ? 2
13. लोकतन्त्र शासन की बेहतर व्यवस्था है, कोई दो कारण लिखिए। 2
14. निम्न को सुमेलित कीजिए :
 - i) एगमार्क — उपभोक्ता कल्याण संगठनों की अन्तरराष्ट्रीय संस्था
 - ii) जिला उपभोक्ता अदालत — वस्तुओं एवं सेवाओं का मानकीकरण
 - iii) उपभोक्ता इंटरनेशनल — अनाजों एवं खाद्य तेलों का प्रमाण
 - iv) भारतीय मानक ब्यूरो — उपभोक्ता मामलों की सुनवाई। 2
15. दबाव समूह और आंदोलन राजनीति को किस तरह प्रभावित करते हैं ? 3
16. भारतीय रिजर्व बैंक अन्य बैंकों की गतिविधियों पर किस तरह नियंत्रण रखता है ? 3
17. मुद्रण संस्कृति का फ्रांसीसी क्रान्ति पर क्या प्रभाव पड़े ? लिखिये। 3
18. शहरों में रहने वाले लोगों को किन-किन पर्यावरणीय समस्याओं का सामना करना पड़ता है ?
तीन समस्याएँ लिखिए। 1 + 1 + 1 = 3
19. भारत में सूती वस्त्र उद्योग का वर्णन निम्न बिन्दुओं के आधार पर कीजिए :
 - i) महत्व ii) अनुकूल कारक
 - iii) उत्पादक क्षेत्र। 1 + 1 + 1 = 3

20. भारत के अन्तरराष्ट्रीय व्यापार को अनुकूल बनाने के तीन सुझाव दीजिए। $1 + 1 + 1 = 3$
21. भारतीय लोकतन्त्र के समक्ष उपस्थित कोई तीन चुनौतियां बताइए। $1 + 1 + 1 = 3$
22. लोकतन्त्र की विशेषताओं को बिन्दुवार लिखिए। 3
23. भारत की एक पेय फसल का नाम लिखिए। इसकी अनुकूल भौगोलिक परिस्थितियों का विवरण दीजिए। $1 + 2 = 3$
24. भारत में लौह अयस्क की चार पेटियों का वर्णन कीजिए। 4
25. ऊर्जा संरक्षण की आवश्यकता एवं इसके संरक्षण के तीन उपाय बताइए। $1 + 3 = 4$
26. राजनैतिक दल अपना कामकाज ठीक ढंग से करें, इसके लिए चार सुझाव दीजिए। 4
27. बहुराष्ट्रीय कम्पनियां क्या हैं ? भारत में बहुराष्ट्रीय कम्पनियों की भूमिका का वर्णन कीजिए।

अथवा

- विश्व व्यापार संगठन क्या है ? इसके प्रमुख कार्यों का वर्णन कीजिए। 4
28. उपभोक्ता को जागरूक बनाने के लिए चार सुझाव दीजिए। 4
29. लोकतांत्रिक शासन व्यवस्था के पक्ष एवं विपक्ष में दो-दो तर्क दीजिए। 4

अथवा

- लोकतंत्र किन स्थितियों में सामाजिक विविधताओं के बीच सामंजस्य बैठाता है ? स्पष्ट कीजिए। 4
30. दिए गये भारत के रेखा मानचित्र में निम्नलिखित को अंकित कीजिए :
- (A) (क) नरोरा - परमाणु ऊर्जा संयंत्र
(ख) दुर्गापुर - इस्पात संयंत्र
(ग) विशाखापट्टनम् - बन्दरगाह। $1 + 1 + 1 = 3$
- (B) (क) साबरमती
(ख) आगरा। $1 + 1 = 2$

नामांक

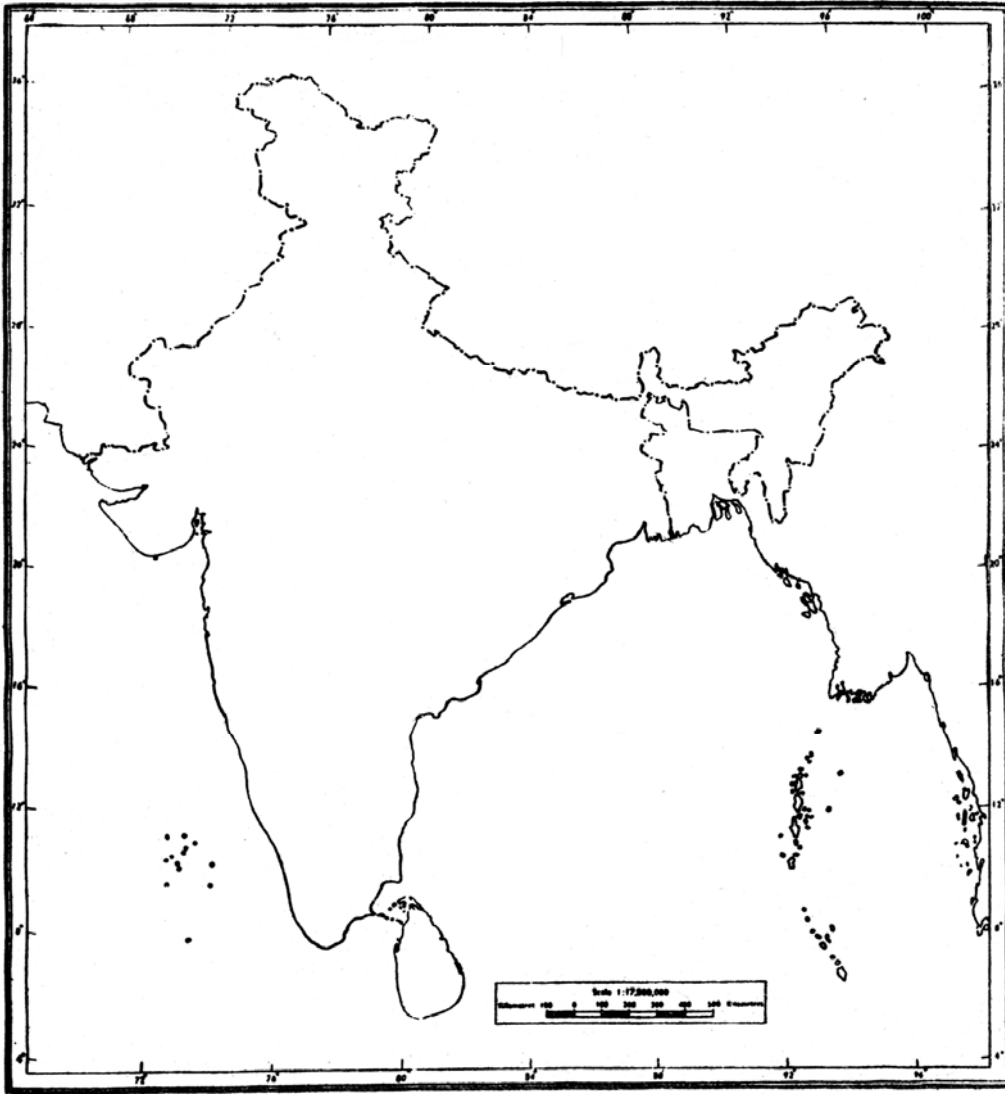
Roll No.

--	--	--	--	--	--	--

S—98—Social Science (D & D)

माध्यमिक (मूक बधिर) परीक्षा, 2013

SOCIAL SCIENCE



S-1125

नामांक			Roll No.			

No. of Questions — 30

No. of Printed Pages — 3

S—98—Social Science (D & D)

माध्यमिक (मूक बधिर) परीक्षा, 2013

**सामाजिक विज्ञान
(SOCIAL SCIENCE)**

समय : $4\frac{1}{4}$ घण्टे

पूर्णांक : 80

परीक्षार्थियों के लिए सामान्य निर्देश :

1. परीक्षार्थी सर्वप्रथम अपने प्रश्न पत्र पर नामांक अनिवार्यतः लिखें।
2. **सभी** प्रश्न करने अनिवार्य हैं।
3. प्रत्येक प्रश्न का उत्तर दी गई उत्तर-पुस्तिका में ही लिखें।
4. जिन प्रश्नों में आन्तरिक खण्ड हैं, उन सभी के उत्तर एक साथ ही लिखें।
5. प्रश्नों के अंकभार उनके सम्मुख अंकित है।
6. प्रश्न संख्या 30 मानचित्र कार्य से संबन्धित है। मानचित्र को उत्तर पुस्तिका के साथ नत्थी करें।
7. प्रश्न संख्या 27 तथा 29 में आन्तरिक विकल्प हैं।

1. दो देशों के मध्य होने वाले व्यापार को क्या कहते हैं ? 1
2. मुद्रण की सबसे पहली तकनीक किन-किन देशों में विकसित हुई ? 1
3. औपनिवेशिक काल में किन दो बन्दरगाहों का महत्व बढ़ गया था ? 1
4. भारत की तीन शस्य ऋतुओं के नाम लिखिए। 1
5. ऋण के औपचारिक और अनौपचारिक स्रोतों में अन्तर बताइये। 2
6. विकास में ऋण की भूमिका का विश्लेषण कीजिए। 2
7. वैश्वीकरण से आप क्या समझते हैं ? 2
8. चार्ल्स डिकेन्स द्वारा कौन से दो उपन्यासों की रचना की गई ? 2
9. पहले विश्व युद्ध के समय भारत का औद्योगिक उत्पादन क्यों बढ़ा ? 2
10. विक्टोरियाकालीन ब्रिटेन में उच्च वर्ग के लोग हाथ से बनी चीजों को पसन्द करते थे। कोई दो कारण लिखिए। 2
11. ब्रिटेन के अमीर परिवारों एवं गरीब परिवारों के मनोरंजन के साधनों की तुलना कीजिए। 2
12. उपन्यासों का युवाओं पर क्या प्रभाव पड़े ? 2
13. लोकतन्त्र शासन की बेहतर व्यवस्था है, कोई दो कारण लिखिए। 2
14. निम्न को सुमेलित कीजिए :
 - i) एगमार्क — उपभोक्ता कल्याण संगठनों की अन्तरराष्ट्रीय संस्था
 - ii) जिला उपभोक्ता अदालत — वस्तुओं एवं सेवाओं का मानकीकरण
 - iii) उपभोक्ता इंटरनेशनल — अनाजों एवं खाद्य तेलों का प्रमाण
 - iv) भारतीय मानक ब्यूरो — उपभोक्ता मामलों की सुनवाई। 2
15. दबाव समूह और आंदोलन राजनीति को किस तरह प्रभावित करते हैं ? 3
16. भारतीय रिजर्व बैंक अन्य बैंकों की गतिविधियों पर किस तरह नियंत्रण रखता है ? 3
17. मुद्रण संस्कृति का फ्रांसीसी क्रान्ति पर क्या प्रभाव पड़े ? लिखिये। 3
18. शहरों में रहने वाले लोगों को किन-किन पर्यावरणीय समस्याओं का सामना करना पड़ता है ?
तीन समस्याएँ लिखिए। 1 + 1 + 1 = 3
19. भारत में सूती वस्त्र उद्योग का वर्णन निम्न बिन्दुओं के आधार पर कीजिए :
 - i) महत्व ii) अनुकूल कारक
 - iii) उत्पादक क्षेत्र। 1 + 1 + 1 = 3

20. भारत के अन्तरराष्ट्रीय व्यापार को अनुकूल बनाने के तीन सुझाव दीजिए। $1 + 1 + 1 = 3$
21. भारतीय लोकतन्त्र के समक्ष उपस्थित कोई तीन चुनौतियां बताइए। $1 + 1 + 1 = 3$
22. लोकतन्त्र की विशेषताओं को बिन्दुवार लिखिए। 3
23. भारत की एक पेय फसल का नाम लिखिए। इसकी अनुकूल भौगोलिक परिस्थितियों का विवरण दीजिए। $1 + 2 = 3$
24. भारत में लौह अयस्क की चार पेटियों का वर्णन कीजिए। 4
25. ऊर्जा संरक्षण की आवश्यकता एवं इसके संरक्षण के तीन उपाय बताइए। $1 + 3 = 4$
26. राजनैतिक दल अपना कामकाज ठीक ढंग से करें, इसके लिए चार सुझाव दीजिए। 4
27. बहुराष्ट्रीय कम्पनियां क्या हैं ? भारत में बहुराष्ट्रीय कम्पनियों की भूमिका का वर्णन कीजिए।

अथवा

- विश्व व्यापार संगठन क्या है ? इसके प्रमुख कार्यों का वर्णन कीजिए। 4
28. उपभोक्ता को जागरूक बनाने के लिए चार सुझाव दीजिए। 4
29. लोकतांत्रिक शासन व्यवस्था के पक्ष एवं विपक्ष में दो-दो तर्क दीजिए। 4

अथवा

- लोकतंत्र किन स्थितियों में सामाजिक विविधताओं के बीच सामंजस्य बैठाता है ? स्पष्ट कीजिए। 4
30. दिए गये भारत के रेखा मानचित्र में निम्नलिखित को अंकित कीजिए :
- (A) (क) नरोरा - परमाणु ऊर्जा संयंत्र
(ख) दुर्गापुर - इस्पात संयंत्र
(ग) विशाखापट्टनम् - बन्दरगाह। $1 + 1 + 1 = 3$
- (B) (क) साबरमती
(ख) आगरा। $1 + 1 = 2$

नामांक

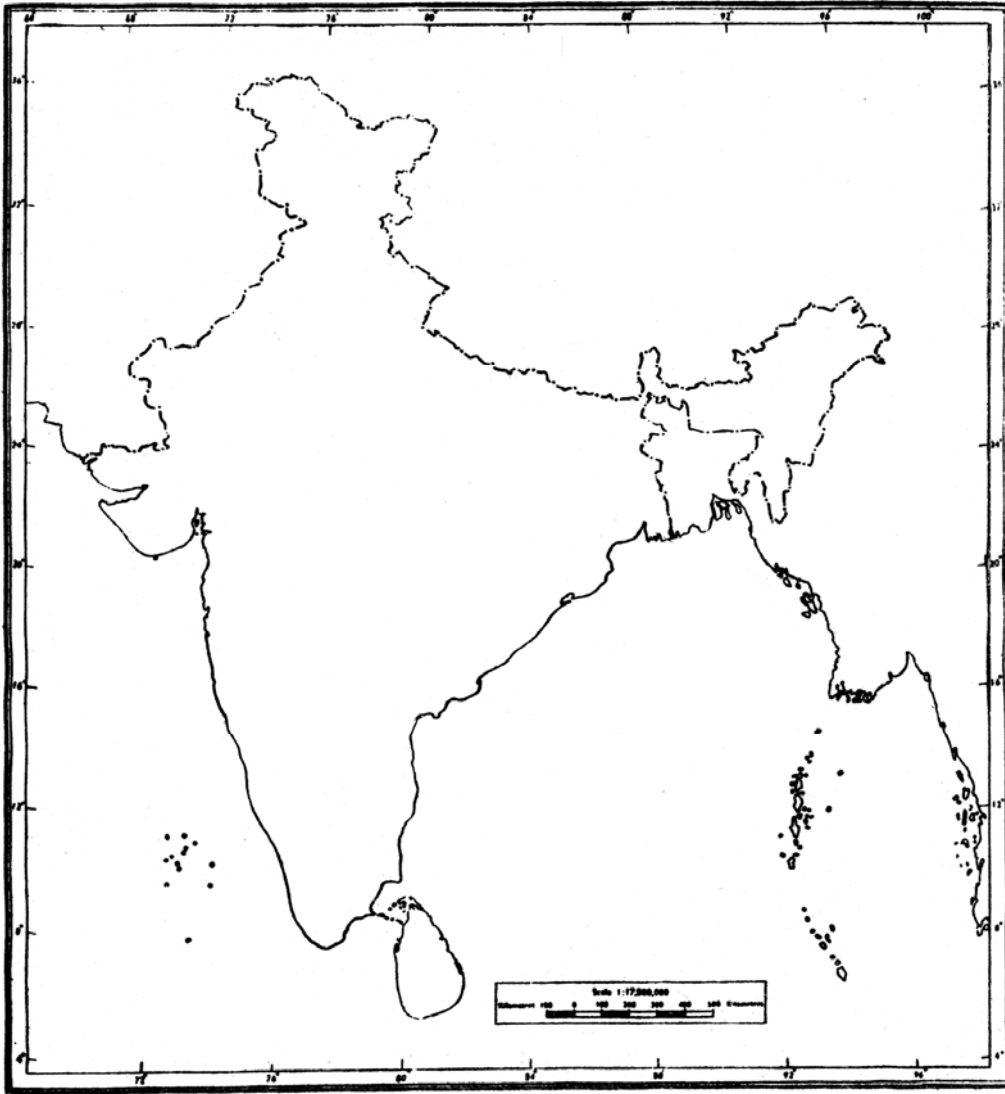
Roll No.

--	--	--	--	--	--	--

S—98—Social Science (D & D)

माध्यमिक (मूक बधिर) परीक्षा, 2013

SOCIAL SCIENCE



S-1125

नामांक

Roll No.

--	--	--	--	--	--	--

No. Of Questions- 30

S-98 Social Science (D & D)

No. of Printed Pages- 03

माध्यमिक (मूक बधिर) परीक्षा, 2016

सामाजिक विज्ञान (SOCIAL SCIENCE)

समय : 4¼ घण्टे

पूर्णांक : 80

परीक्षार्थियों के लिए सामान्य निर्देश :

1. परीक्षार्थी सर्वप्रथम अपने प्रश्न पत्र पर नामांक अनिवार्यतः लिखें।
2. सभी प्रश्न करने अनिवार्य हैं।
3. प्रत्येक प्रश्न का उत्तर दी गई उत्तर-पुस्तिका में ही लिखें।
4. जिन प्रश्नों में आन्तरिक खण्ड हैं, उन सभी के उत्तर एक साथ ही लिखें।
5. प्रश्नों के अंकभार उनके सम्मुख अंकित है।
6. प्रश्न संख्या 30 मानचित्र कार्य से संबन्धित है। मानचित्र को उत्तर पुस्तिका के साथ नत्थी करें।
7. प्रश्न संख्या 27 से 29 में आन्तरिक विकल्प हैं।

- प्र.1 भारत किस फसल को सुनहरा रेशा कहा जाता है? (1)
- प्र.2 व्यापार से क्या अभिप्राय है? (1)
- प्र.3 ग्रामीण क्षेत्रों में सस्ता ऋण उपलब्ध करवाने के एक स्रोत का नाम बताइये। (1)
- प्र.4 मुद्रा का क्या अभिप्राय है? (1)
- प्र.5 गुमास्ता कौन थे? (2)
- प्र.6 स्टंपलर्स से आप क्या समझते हैं? (2)
- प्र.7 भारत का कौन सा शहर मायापुरी कहलाता है? और क्यों? (1+1=2)
- प्र.8 फ्रांस के उन दो विचारकों और लेखकों के नाम लिखिए जिनके लेखों ने फ्रांसीसी क्रांति के लिए अनुकूल परिस्थितियां प्राप्त की? (1+1=2)
- प्र.9 भारत में आधुनिक उपन्यासों के नाम व लेखकों के नाम बताइये। (2)
- प्र.10 आपके अनुसार उत्तरी पूर्वी राज्यों में वायु परिवहन अधिक महत्वपूर्ण क्यों है? (2)
- प्र.11 विशेष वर्ग समूह तथा जन सामान्य हित समूह में क्या अंतर है? (2)
- प्र.12 राजनीतिक दलों के दो प्रमुख कार्य बताइये। (2)
- प्र.13 विदेशी व्यापार और विदेशी निवेश में अंतर स्पष्ट कीजिए। (2)
- प्र.14 उपभोक्ता के कोई दो अधिकार बताइये। (2)
- प्र.15 "शहरी इलाके कई तरीके के हो सकते हैं"। व्याख्या कीजिए। (3)
- प्र.16 कोलकाता के वायु प्रदूषण के बारे में बताइये। (3)
- प्र.17 प्रिंटिंग प्रेस से क्या लाभ हुए? (3)
- प्र.18 'इन्दिरा बाई' के उपन्यास से क्या संदेश मिलता है? (3)
- प्र.19 एक खरीफ की फसल का नाम बताइये तथा उसको उगाने के लिए भौगोलिक परिस्थितियों का वर्णन कीजिए। (3)

- प्र.20 नेपाल के सत्ता संघर्ष का वर्णन कीजिए। (3)
- प्र.21 राजनीतिक दल की वंशवाद की चुनौती से क्या आशय है? (3)
- प्र.22 बहुराष्ट्रीय कम्पनियां अन्य देशों में निवेश करने से पहले किन बातों को ध्यान में रखती हैं? (3)
- प्र.23 उपभोक्ता शोषण के कोई तीन प्रकार बताइये। (3)
- प्र.24 कुछ लोग किताबों की सुलभता को लेकर क्यों चिंतित थे? (4)
- प्र.25 ऊर्जा के संरक्षण की आवश्यकता एवं उसके संरक्षण के उपाय बताइये। (4)
- प्र.26 उद्योगों द्वारा पर्यावरण निम्नीकरण को कम करने के लिए उठाये गए उपाय लिखिए। (4)
- प्र.27 लोकतंत्र क्या है? शिकायतों को लोकतंत्र की सफलता का प्रमाण किस प्रकार माना जाता है? स्पष्ट कीजिए। (4)

अथवा

लोकतंत्र किन स्थितियों में सामाजिक विविधता को संभालता है और उनके बीच सामंजस्य बैठाता है?

- प्र.28 भारत में लोकतंत्र के सम्मुख कौन-कौन सी चुनौतियां हैं? समझाइये। (4)
- प्र.29 शहरी क्षेत्र में गरीब परिवारों की तुलना में अमीर परिवारों के औपचारिक ऋणों का हिस्सा अधिक क्यों होता है? स्पष्ट कीजिए। (4)

अथवा

ग्रामीण परिवार औपचारिक क्षेत्रों की तुलना में अनौपचारिक क्षेत्रों से अधिक साख क्यों लेते हैं?

स्पष्ट कीजिए।

- प्र.30 भारत के मानचित्र में दर्शाइये: (2+3=5)
- (1) दो चावल उत्पादक क्षेत्रों को दर्शाइये।
- (2) तीन आणविक ऊर्जा केन्द्रों को दर्शाइये।

DO NOT WRITE ANYTHING HERE

नामांक

Roll No.

--	--	--	--	--	--	--

No. of Questions – 30

S-98-Social Science (D & D)

No. of Printed Pages – 8

माध्यमिक (मूक बधिर) परीक्षा, 2017
सामाजिक विज्ञान
(SOCIAL SCIENCE)

समय : $4\frac{1}{4}$ घण्टे

पूर्णांक : 80

परीक्षार्थियों के लिए सामान्य निर्देश :

- (1) परीक्षार्थी सर्वप्रथम अपने प्रश्न-पत्र पर नामांक अनिवार्यतः लिखें ।
- (2) सभी प्रश्न करने अनिवार्य हैं ।
- (3) प्रत्येक प्रश्न का उत्तर दी गई उत्तर-पुस्तिका में ही लिखें ।
- (4) जिन प्रश्नों में आन्तरिक खण्ड हैं, उन सभी के उत्तर एक साथ ही लिखें ।
- (5) प्रश्नों के अंकभार उनके सम्मुख अंकित हैं ।
- (6) प्रश्न संख्या 30 मानचित्र से संबन्धित है । मानचित्र को उत्तर पुस्तिका के साथ नत्थी करें ।
- (7) प्रश्न संख्या 27 से 29 में आन्तरिक विकल्प हैं ।

S-98-Soc. Science (D & D)

[Turn over

1. 'चन्द्रकान्ता सन्तति' के लेखक का नाम बताइये । 1
2. राजस्थान में कहाँ की खदानें ताँबे के लिये प्रसिद्ध हैं ? 1
3. भारत में केन्द्र सरकार की ओर से करेंसी नोट कौन जारी करता है ? 1
4. स्वयं सहायता समूह में बचत और ऋण गतिविधियों पर कौन निर्णय लेते हैं ? 1
5. भारत में पहला चलचित्र कब व किसने बनाया ? 1+1=2
6. 'गुलाम गिरी' के रचयिता कौन थे ? इस पुस्तक की रचना कब हुई ? 1+1=2
7. उपन्यास 'इन्दुलेखा' के द्वारा लेखक ने क्या बताने का प्रयास किया है ? 2
8. जूट से कौन-कौन सी वस्तुएँ बनाई जाती हैं ? बताइये 2

9. संचार के प्रमुख साधनों के नाम लिखिये । 2
10. नेपाल की सभी बड़ी पार्टियों ने सन् 2006 में आंदोलन कर राजा से कौन सी माँगे मनवाई ? कोई दो लिखिये । 1+1=2
11. भारत के किन्हीं चार राज्यस्तरीय (क्षेत्रीय) राजनीतिक दलों के नाम लिखिये । 2
12. ऋण अथवा उधार के दो महत्त्व बताइये । 1+1=2
13. वित्तीय औपचारिक संस्थाएँ कौनसी हैं ? 2
14. ऐसे दो तरीकों का उल्लेख कीजिये जिनसे प्रायः दुकानदार उपभोक्ता का शोषण करते हैं । 1+1=2
15. लन्दन को साफ सुथरा बनाने के लिए किये गये उपाय लिखिये । 3
16. वर्नाक्यूलर प्रेस एक्ट कब लागू हुआ ? इसके कोई दो प्रावधान बताइये । 1+2=3

17. रोपण कृषि की मुख्य विशेषताएँ बताइये । 3
18. दबाव समूह एवं राजनीतिक दल में क्या अन्तर है ? स्पष्ट कीजिये । 3
19. लोकतन्त्र किस तरह उत्तरदायी, जिम्मेदार और वैध सरकार का गठन करता है ? विवेचना कीजिये । 3
20. लोकतन्त्र में राजनीतिक दलों की मुख्य भूमिकाओं के कोई तीन मुख्य बिन्दु लिखिये । 3
21. लोकतान्त्रिक सरकारों में फैसले लेने में अधिक समय क्यों लगता है ? स्पष्ट कीजिये । 3
22. विश्व व्यापार संगठन पर एक टिप्पणी लिखिये । 3
23. अपने क्षेत्र के बाजार में जाने पर उपभोक्ता के रूप में अपने कर्तव्यों का वर्णन कीजिये । 3
24. इंग्लैण्ड में कारखानों का उदय कब हुआ ? इससे उत्पादन की प्रक्रिया में क्या परिवर्तन हुए ? स्पष्ट कीजिये । 4

25. उपन्यास का इस्तेमाल औपनिवेशिक सरकार व भारतीयों ने अपने-अपने ढंग से किया । इस कथन की विवेचना कीजिये । 2+2=4

26. भारत में सौर ऊर्जा का भविष्य उज्ज्वल क्यों है ? स्पष्ट कीजिये । 4

27. बहुराष्ट्रीय कम्पनियों से आप क्या समझते हैं ? भारत में बहुराष्ट्रीय कम्पनियों की भूमिका को स्पष्ट कीजिये ।

अथवा

वैश्वीकरण का अर्थ बताते हुए इसे सम्भव बनाने वाले तीन कारकों की विवेचना कीजिये । 4

28. आप भारत में विनिर्माण उद्योग को क्यों महत्त्वपूर्ण मानते हैं ? विवेचना कीजिये ।

अथवा

आपके मतानुसार उद्योगों में वायु-प्रदूषण कैसे होता है ? स्पष्ट कीजिये । 4

29. लोकतन्त्र में अलग-अलग तरह की चुनौतियां विद्यमान हैं, इनमें से किन्हीं चार की विवेचना कीजिये ।

अथवा

लोकतन्त्र के विस्तार के कारण इसको पुनर्परिभाषित करने पर किन बातों को जोड़ा जाना चाहिये ? किन्हीं चार बातों का उल्लेख कीजिये । 4

30. भारत के मानचित्र में दर्शाइये -

2+3=5

(अ) दो लोहा और इस्पात संयंत्र ।

(ब) तीन अन्तर्राष्ट्रीय हवाई पत्तन ।

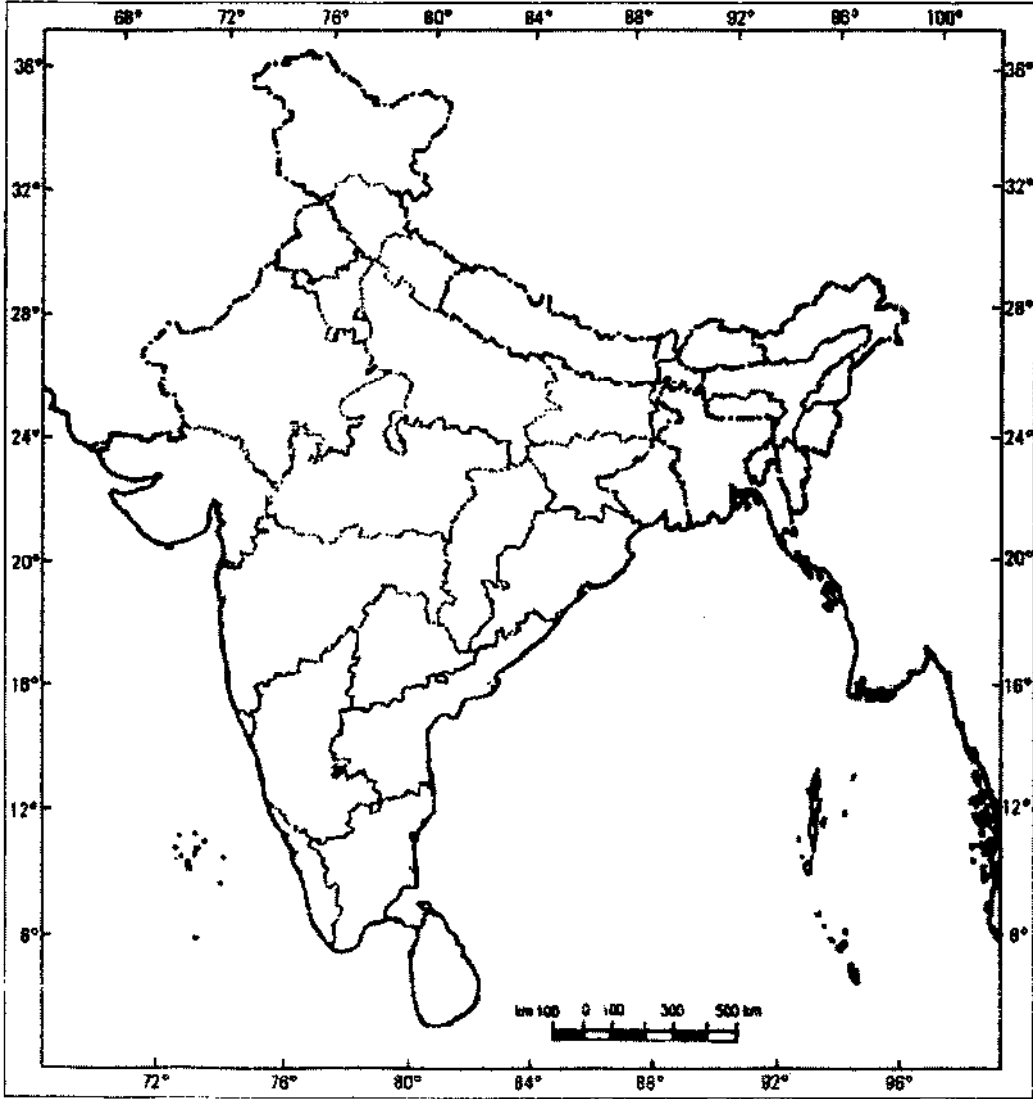
नामांक

Roll No.

--	--	--	--	--	--	--

S-98-Social Science (D & D)

माध्यमिक (मूक बधिर) परीक्षा, 2017
सामाजिक विज्ञान
(SOCIAL SCIENCE)



DO NOT WRITE ANYTHING HERE